

Игровая программа

ЗНАТОКИ

ПДДД



# **Темы:**

история дорожного движения

дорожные знаки

правила для участников дорожного движения

общий вопрос

1	2	3	4	5	6
7	8	9	10	11	12
13	14	15	16	17	18
19	20	21	22	23	24
25	26	27	28	29	30

1	2	3	4	5	6
7	8	9	10	11	12
13	14	15	16	17	18
19	20	21	22	23	24
25	26	27	28	29	30

# вопрос 1

В **1920** или в **1950** году В.И.Ленин подписал декрет "Об автодвижении по г.Москве и ее окрестностям", который предусматривал введение определенных требований к автомашинам, водителям, устанавливал предельные скорости движения автомобилей и мотоциклов.

**1920 г.**

Декрет предусматривал регистрацию машин, порядок их использования, введение номерные знаки, наличие водительских удостоверений и путевых листов у водителей, устанавливал скорости движения автомобилей и мотоциклов (легковые автомобили и мотоциклы не свыше 25 верст в час, грузовые автомобили - не свыше 15).

**ОТВЕТ**




# вопрос 2

С какого **возраста** разрешается управлять велосипедом на проезжей части?

**С 14 лет**

**ОТВЕТ**



# вопрос 3

На какие **группы** делятся дорожные знаки?  
Назовите не менее трёх групп.

**Различают семь групп  
дорожных знаков:**

Предупреждающие

Запрещающие

Предписывающие

Приоритета

Информационно-указательные

Сервиса

Дополнительной информации  
(таблички)

**ОТВЕТ**





# *вопрос 4*

Назовите марку первого  
автомобиля, выпущенного в  
России?

*"Руссо-балт"*

**ОТВЕТ**




# вопрос 5

Детей какого **возраста** запрещено перевозить на переднем сидении автомобиля?

**Младше 12 лет**

**ОТВЕТ**




# вопрос 6

О чем говорит  
этот знак?



**Въезд запрещен**

**ОТВЕТ**




# вопрос 7

С какого **возраста** можно получить права на управление автомобилем?


С 18 лет

ОТВЕТ




# вопрос 8

О чем говорит  
этот знак?



**Движение запрещено**

**ОТВЕТ**




# вопрос 9

Назовите **предмет** «длиной около 11 вершков красного цвета с желтой рукояткой», который был вручен постовым милиционерам согласно инструкции от 22 ноября 1922 года.

**жезл**

"Инструкция постовому милиционеру о порядке пользования жезлом" была утверждена административно-организационным отделом ГУРК НКВД.

**ОТВЕТ**




# вопрос 10

На что указывает  
этот знак?



**Место стоянки**

**ОТВЕТ**




# вопрос 11

Для чего нужен **валидол** в автомобильной аптечке?

1. Для приёма при высокой температуре тела.
2. Для приёма при болях в области перелома.
3. Для приёма при болях в области сердца.

**Ответ №3**

**ОТВЕТ**





# вопрос 12

Назовите **службу**, появившуюся в 1936 году «в целях обеспечения безопасности дорожного движения»

**ГАИ**

Родилась она, опираясь на опыт предшествующих поколений. Известно, что Петр I в 1719 г. создал полицейские органы и возложил на них обязанности по соблюдению в г. Санкт-Петербурге установленных правил движения.

**ОТВЕТ**



# вопрос 13

Назовите **царя**, в годы царствования которого началось систематическое строительство дорог в России.

**Пётр I**

По его указу в 1717 году началось строительство дороги между Петербургом и Москвой, которое продолжалось 17 лет.

**ОТВЕТ**



# вопрос 14


Водитель мотоцикла или водитель автомобиля допустил **нарушение** правил дорожного движения?

**Водитель  
автомобиля**



Пересечение сплошной линии дорожной разметки **запрещено**.

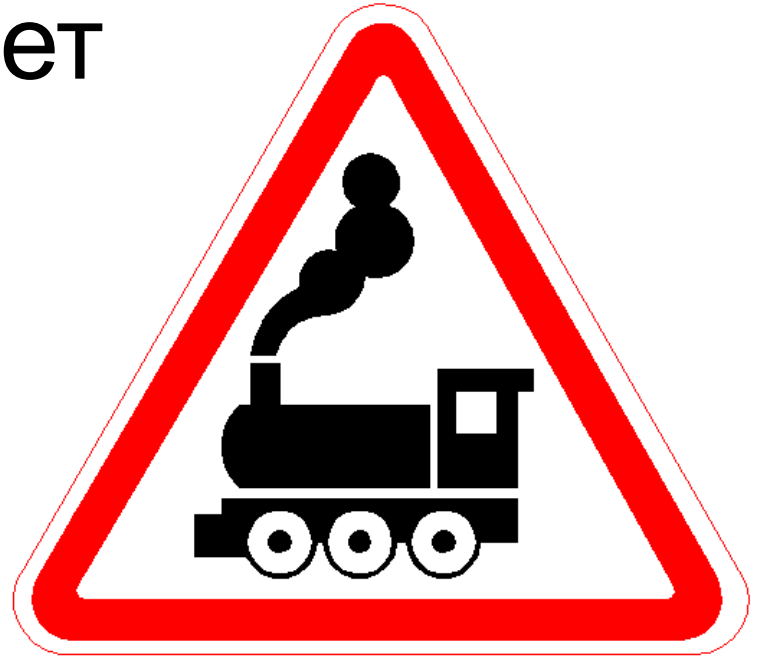
**ОТВЕТ**




# вопрос 15

О чем предупреждает  
этот знак?

Железнодорожный  
переезд  
без шлагбаума.



**ОТВЕТ**



# вопрос 16

Назовите **императора**, при котором была создана команда вольноотпущеников, которая должна была следить за движением на перекрестках. В случае затора команда имела неограниченные права, вплоть до применения физической силы.

**Юлий  
Цезарь**

Он же ввел первые  
Правила движения.

**ОТВЕТ**




# вопрос 17

Если на перекрёстке, где работает светофор, находится регулировщик, чьим сигналам нужно подчиняться – **светофора** или **регулировщика**?

сигналам

**регулировщика**

**ОТВЕТ**




# вопрос 18

О чем говорит  
этот знак?



**Движение пешеходов  
запрещено**

**ОТВЕТ**




# вопрос 19

Как **называется** «лицо, находящееся вне транспортного средства на дороге и не производящее на ней работу»?

**пешеход**

**ОТВЕТ**






# вопрос 20

Первая Международная конференция по автомобильному движению, проходившая в 1909 г. в Париже, окончательно установила порядок их применения. **Назовите их.**

**дорожные  
знаки**

В далеком прошлом, когда не только ничего не знали об автомобилях, но даже не предполагали, что экипажи могут передвигаться с помощью какой-либо силы, кроме гужевой, возникла проблема проинформировать путешественников о направлении движения, какое расстояние предстоит пройти. Так появились первые прототипы дорожных знаков.

**ОТВЕТ**




# вопрос 21

Для чего в автомобильной аптечке предназначен 10% водный раствор аммиака (нашатырный спирт).

1. Для вдыхания при обмороке и угаре.
2. Для наложения согревающего компресса.
3. Для обработки ран.

**Ответ №1**

**ОТВЕТ**




# вопрос 22

О чем говорит  
этот знак?



**Движение  
на велосипедах  
запрещено**

**ОТВЕТ**




# *вопрос 23*

О чем говорит желтая линия дорожной разметки?

**Остановка запрещена.**

**ОТВЕТ**




# вопрос 24

Как **велосипедист** должен информировать других участников движения о своем намерении остановиться?

**поднять вверх руку**

**ОТВЕТ**



# вопрос 25

**Левостороннее или правостороннее движение**  
было принято при Петре I ?

**правостороннее**

В России еще при Петре I было принято за норму правостороннее движение, повозки и сани разъезжались, как правило, держась правой стороны.

**ОТВЕТ**




# *вопрос 26*

О чем говорит желтый мигающий сигнал светофора?

**Движение на перекрестке не регулируется.**

**ОТВЕТ**




# вопрос 27

На каком **расстоянии** от края дороги может передвигаться велосипедист?

**не более 1 метра**

**ОТВЕТ**






# вопрос 28

С какой максимальной скоростью разрешается движение транспортных средств в населенных пунктах?

**60 км/ч**

**ОТВЕТ**




# вопрос 29

О чем предупреждает  
этот знак?



**Дорожные работы**

**ОТВЕТ**



# вопрос 30

В чем **особенность** таких стран как, например, Австралия, Великобритания, Кипр, Индия, Ирландия, Япония, Кения, Мальта, Новая Зеландия.

В этих и многих других странах принято

**левостороннее движение.**

. По одному из предположений, Великобритания взяла это из морских правил, так как являлась островным государством, и единственной связью с остальными странами было судоходство – по ним судно пропускало другое судно, которое приближалось к нему, справа.

**ОТВЕТ**

